

ШИФР УЧАСТНИКА \_\_\_\_\_

### Задания для обучающихся

#### Теоретический тур

Максимальное количество баллов – **50**.






Время выполнения – **45** мин.

#### ЗАДАНИЯ ОТКРЫТОГО ТИПА


Максимальное количество баллов – **25**

*Дайте развернутые или краткие ответы на следующие вопросы и задания в соответствии с требованием к их выполнению.*

**Задание 1. Соотнесите вид артиллерийского орудия РФ с названием «цветочной флорой».**

Военная техника	
А.	
Б.	
В.	
Г.	
Д.	

Название «Цветка»
1. Пион
2. Акация
3. Мальва
4. Василёк
5. Гиацинт



<b>6. Тюльпан</b>
<b>7. Гвоздика</b>
<b>8. Хризантема</b>

Ответ: А - \_\_\_\_ ; Б - \_\_\_\_ ; В - \_\_\_\_ ; Г - \_\_\_\_ ; Д - \_\_\_\_ ; Е. - \_\_\_\_ ; Ж. - \_\_\_\_ ; З - \_\_\_\_.

Максимальная оценка за правильно выполненное задание – **4 балла**, при этом:  
- за каждый правильный ответ начисляется по 0,5 балла.

Оценка за задание \_\_\_\_\_ баллов

**Задание 2 Военские ритуалы** – это торжественные церемонии, совершаемые в повседневных условиях, во время праздничных торжеств и других случаях. Структура воинских ритуалов подразделяется на 3 части: ритуалы боевой деятельности, ритуалы учебно-боевой деятельности и ритуалы повседневной деятельности. Внесите номера перечисленных ритуалов в таблицу в соответствии с принадлежностью их к определенной группе.

Ритуалы боевой деятельности	Ритуалы учебно-боевой деятельности	Ритуалы повседневной деятельности

- |                                    |                              |
|------------------------------------|------------------------------|
| 1. Заступление на боевое дежурство | 7. Развод и смена караулов   |
| 2. Выпуск молодых офицеров         | 8. Парад                     |
| 3. Производство салютов            | 9. Строевой смотр            |
| 4. Вручение наград                 | 10. Принятие Военной присяги |

**5. Вручение Боевого знамени**

**11. Чествование героев**

**6. Торжественный марш**

**12. Чествование ветеранов**

*Максимальная оценка за правильно выполненное задание – **6 баллов**, при этом:  
- за каждый правильный ответ начисляется по 0,5 балла;*

Оценка за задание \_\_\_\_\_ баллов

**Задание 3. Соедините стрелками или расставьте буквы соответствующему уровню звука в зависимости от источника шума.**

Источник звука		Уровень звука, дБ
<b>1.) Музыка с улицы</b>		<b>А.) 10</b>
<b>2.) Громкий разговор людей</b>		<b>Б.) 20</b>
<b>3.) Тихая сельская местность</b>		<b>В.) 25</b>
<b>4.) Магистральная улица</b>		<b>Г.) 30</b>
<b>5.) Реактивный двигатель</b>		<b>Д.) 65</b>
<b>6.) Выстрел из орудия</b>		<b>Е.) 75</b>
<b>7.) Тихий шепот</b>		<b>Ж.) 85</b>
<b>8.) Тиканье ручных часов</b>		<b>З.) 90</b>
<b>9.) Пылесос</b>		<b>И.) 140</b>
<b>10.) Тиканье настенных часов</b>		<b>К.) 155</b>

Ответ: **1 - \_\_\_\_ ; 2 - \_\_\_\_ ; 3 - \_\_\_\_ ; 4 - \_\_\_\_ ; 5 - \_\_\_\_ ;**  
**6 - \_\_\_\_ ; 7 - \_\_\_\_ ; 8 - \_\_\_\_ ; 9 - \_\_\_\_ ; 10 - \_\_\_\_ .**

*Максимальная оценка за правильно выполненное задание – **5 баллов**, при этом:  
- за каждый правильный ответ начисляется по 0,5 балла;*

Оценка за задание \_\_\_\_\_ баллов

**Задание 4. Во время ремонта телевизора у бабушки произошел сильный разряд электрического тока. Телемастер потерял сознание и упал возле стола. Его рука продолжает крепко сжимать пучок проводов с деталями. Лицо искажено судорогой. Какие Вы предпримете действия?**

***Выбери правильные ответы и расположи их в порядке очередности:***

1. вызвать скорую помощь;
2. оценить обстановку;
3. позвать бабушку на помощь;
4. приступить к непрямому массажу сердца;
5. перебить провода ножом или топором одним ударом;
6. перерезать каждый провод по отдельности на разных уровнях;
7. подойти к электрощиту и обесточить квартиру;
8. подложить под голову подушку;
9. уложить пострадавшего на спину;
10. убедиться в наличии пульса на сонной артерии и повернуть пострадавшего на живот;
11. убедиться в наличии пульса на сонной артерии, ударить пострадавшего по груди и приступить к непрямому массажу сердца;
12. убедиться в отсутствии пульса на сонной артерии и после начать сердечно-легочную реанимацию
13. убедиться в отсутствии пульса на сонной артерии и повернуть пострадавшего на бок.

Ответ: \_\_\_\_\_

*Максимальная оценка за правильно выполненное задание – 7 баллов, при этом:*

- за каждый правильный ответ начисляется по 1 баллу;
- если выбраны правильные ответы, но проставлена неправильная очередность, то получает 5 баллов

Оценка за задание \_\_\_\_\_ баллов

**Задание 5.** Что входит в обязанности «замыкающего» группы туристов?

Запишите любые 3 пункта

Ответ:

1. \_\_\_\_\_
- \_\_\_\_\_
- \_\_\_\_\_

2. \_\_\_\_\_

3. \_\_\_\_\_

*Максимальная оценка за правильно выполненное задание – 3 балла, при этом:  
- за каждый правильный ответ начисляется по 1 баллу;*

Оценка за задание \_\_\_\_\_ баллов.

### **Тестирование.**

Максимальное количество баллов – **25**

*Задания закрытого типа с одним вариантом ответа.*

*Из предложенных вариантов ответов выберите один правильный.*

*Правильный вариант ответа выделите любым знаком.*

*Правильные ответы на 1-15 вопрос оцениваются в 1 балл.*

**1. Внутренние, нравственные качества, достоинство воина, характеризующие его поведение, отношение к коллективу и выполнению воинского долга называют ....**

- А) Патриотизм;
- Б) Мужество;
- В) Воинская честь;
- Г) Воинская доблесть.

**2. Есть определенные правила пользования СИЗ кожи. Какое из утверждений является ложным?**

- А) при носке СИЗ человек перегревается и быстро устает;
- Б) при длительном ношении СИЗ, выдаются влажные экранирующие комбинезоны из хлопка;
- В) все застёжки расстёгивают руками, сняв предварительно перчатки;
- Г) противогазы снимаются в последнюю очередь.

3. Определите, о каком виде обеспечения аварийно-спасательных работ идет речь. Применение средств механизации, оборудованию в местах ведения работ пунктов водоснабжения и обеспечения водой.

- А) инженерное обеспечение;
- Б) дорожное обеспечение;
- В) транспортное обеспечение;
- Г) материальное обеспечение.

4. Аэробные упражнения - это упражнения, которые выполняются длительное время, с умеренной нагрузкой, в условиях повышенного потребления кислорода мышцами. Выберите какой вид спорта нельзя отнести к аэробным?

- А) Велосипедные гонки;
- Б) Волейбол;
- В) Гребля;
- Г) Катание на коньках.

5. Назначение этого костра: сугубо готовка пищи, в некоторой степени — освещение, а трёхбрёвенный вариант способен на некоторый обогрев. Достоинство - направленное пламя. Назовите этот костер.

- А) Тасжный;
- Б) Пушка;
- В) Финская свеча;
- Г) Полинезийский.

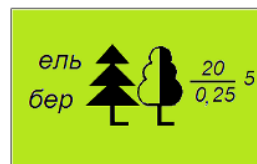
6. Определите, какой лес гуще:



А.



Б.



В.

**7. Какие слова находятся на флаге вооруженных сил РФ?**

- А) Отечество, долг, честь;
- Б) Отечество, долг, мужество;
- В) Родина, долг, доблесть;
- Г) Отчизна, долг, доблесть.

**8. В вооруженных силах СССР присутствовали 5 видов войск, назовите их.**

- А) Сухопутные войска, Ракетные войска стратегического назначения, Военно-воздушные силы, Военно-морской флот, Воздушно-десантные войска;
- Б) Сухопутные войска, Ракетные войска стратегического назначения, Войска противовоздушной обороны, Военно-воздушные силы и Военно-Морской Флот;
- В) Сухопутные войска, Воздушно-десантные войска, Войска противовоздушной обороны, Военно-воздушные силы и Военно-Морской Флот;
- Г) Сухопутные войска, Ракетные войска стратегического назначения, Космические войска, Военно-воздушные силы и Военно-Морской Флот.

**9. Определите, как выглядит в Российской Федерации главная эмблема Генерального штаба.**



**А**



**Б**



**В**



**Г**

**10. В соответствии с Федеральным законом «О днях воинской славы и памятных датах России» - 9 октября является Днем:**



- А) разгрома советскими войсками немецко-фашистских войск в битве за Кавказ;
- Б) разгрома советскими войсками немецко-фашистских войск в Курской битве;
- В) начала контрнаступления советских войск в битве под Москвой;
- Г) проведения военного парада на Красной площади в городе Москве в ознаменование 24 годовщины Великой Октябрьской революции.


**11. На сегодняшний день самой эффективной способом защиты от различных вирусов является ....**

- А) принятие антибиотиков;
- Б) вакцинация;
- В) карантин;
- Г) средства личной гигиены.

**12. В разведке главное наблюдать так, чтоб тебя не заметили. Поэтому выберите место где наблюдатель, НЕПРАВИЛЬНО разместился?**



**А**



**Б**



**В**



**Г**

**13. Штык-нож можно использовать в качестве ....?**

- А) ножа;
- Б) ножа, штыка;
- В) ножа, штыка, пилы;
- Г) ножа, штыка, пилы и ножниц.

**14. Какое из представленных суждений является неверным? В целях формирования экологической культуры в обществе, воспитания бережного**



**отношения к природе граждане имеют право ... (отметьте неверное суждение)**

- А)** участвовать в создании некоммерческих организаций в сфере охраны окружающей среды;
- Б)** принимать участие в референдумах по вопросам охраны окружающей среды;
- В)** разрабатывать документы для местного самоуправления в сфере охраны окружающей среды;
- Г)** предъявлять в суд иски о возмещение вреда окружающей среде.

**15. Определите по симптомам, что принял человек: расширенные зрачки, сонливость, ступор, озноб, трусость, невнятная речь, рвота.**

- А)** Барбитурат – психоактивные лекарственные препараты из группы успокаивающих и снотворных средств;
- Б)** Вейп - электронные системы доставки никотина и иные соединений в легкие;
- В)** Опиум - наркотическое вещество растительного происхождения;
- Г)** Снюс - бездымный табачный продукт, который всасывается через желудок и слизистые в ротовой полости.

*Выберите несколько вариантов ответов:*

*Правильный вариант ответа выделите любым знаком.*

*Правильные ответы на 16-20 вопрос оцениваются максимально в 2 балла.*

**16. Гравитационный поражающий фактор характерен для таких природных явлений как...**

- А)** сильный снегопад;
- Б)** снежная лавина;
- В)** паводок;
- Г)** гололёд;
- Д)** гроза.

**17. При каких условиях принимается решение остаться на месте аварии?**

- А) место происшествия не определено, местность неизвестная и малопроезжая;
- Б) местонахождение ближайшего населённого пункта примерно известно, расстояние до него не далеко;
- В) большая часть людей не может самостоятельно передвигаться из-за полученных травм;
- Г) нет связи только в течение трёх суток;
- Д) сигнал бедствия или сообщение о месте происшествия переданы при помощи аварийной радиостанции.

**18. Какие растения подойдут в качестве заварки для чая?**

- А) Зверобой;
- Б) Крапива;
- В) Кипрей;
- Г) Мать и мачеха;
- Д) Репей.

**19. Что является биологически опасным объектом?**

- А) целлюлозно-бумажные предприятия;
- Б) пищевые предприятия;
- В) предприятия цветной металлургии;
- Г) предприятия тяжёлого машиностроения;
- Д) фармацевтические предприятия.

**20. К инфекционным заболеваниям животных НЕ относятся:**

- А) Свинка;
- Б) Бруцеллёз;
- В) Сибирская язва;
- Г) Ящур;
- Д) Коклюш.

Оценка за задание \_\_\_\_\_ баллов

ШИФР УЧАСТНИКА \_\_\_\_\_

**Практический тур**

**Материалы для обучающихся**

**Максимальное количество баллов – 50.**

**Задание № 1. Оказание первой помощи.**

Молодой человек торопился опоздать на электричку, быстро бежал по лестнице вверх на перрон, что споткнулся и упал, сломав ногу. Оказался открытый перелом, сопровождающийся сильной болью и артериальным кровотечением.

Максимальная оценка баллов – 20.

Оценка за задание \_\_\_\_\_ баллов

**Задание №2. Основы военной службы.**

Снаряжение магазина патронами.

Максимальное количество баллов – 15.

Оценка за задание \_\_\_\_\_ баллов

**Задание № 3. Туризм.**

Вязка узлов.

Максимальное количество баллов - 15.

Оценка за задание \_\_\_\_\_ баллов

**ИТОГО за практический тур \_\_\_\_\_ баллов**

Подписи членов жюри \_\_\_\_\_

\_\_\_\_\_